
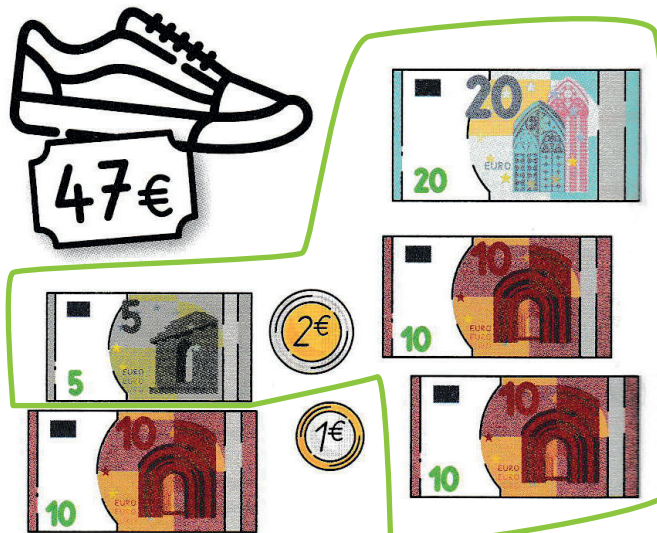


✓ Je résous des problèmes avec les euros :  
addition et soustraction.

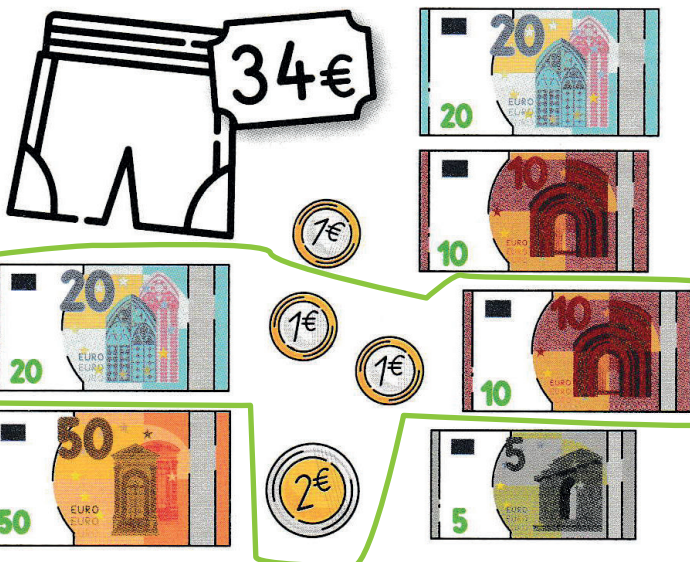
1 Entoure les pièces et les billets pour obtenir exactement la somme demandée.




$$26\text{€} = 20\text{€} + 5\text{€} + 1\text{€}$$



$$47\text{€} = 20 + 10 + 10 + 5 + 2$$



$$34\text{€} = 20 + 10 + 2 + 1 + 1$$




$$58\text{€} = 20 + 20 + 10 + 5 + 2 + 1$$



Sami veut acheter un casque et un tee-shirt.

Combien paiera-t-il en tout?




Je cherche.

Je calcule.  $16 + 7 = 23$

Sami doit payer  $23$  € en tout.

Lola a 19€ dans son porte-monnaie. Elle achète un livre à 3€.

Combien d'argent lui reste-t-il?




Je cherche.

Je calcule.  $19 - 3 = 16$

Il lui reste  $16$  €.

Timéo a 35€. Combien lui manque-t-il pour acheter les rollers?

Dessine les euros qui manquent et complète le calcul.



Je cherche.

Je calcule.  $20€ + 10€ + 5€ + \dots + 20 + 1 = 56€$

Il manque  $21$  € à Timéo.